

1

L'UNIVERS

Nom: _____ Curs: _____ Data: _____

1 ASSENYALA AMB UNA CREU LES FRASES CORRECTES.

Després de l'estiu ve l'hivern.

Abans de l'estiu ve la primavera.

Després de la primavera ve la tardor.

La tardor va abans de l'estiu.

La tardor va abans de l'hivern.

2 RELACIONA LES FRASES AMB L'ESTACIÓ CORRESPONENT.

Els animals
suporten el fred.

hivern

Les plantes
donen fruits.

estiu

Les plantes perden
les seues fulles.

tardor

Els animals crien.

primavera

Nom: _____ Curs: _____ Data: _____

1 QUINA ESTACIÓ DE L'ANY VEUS EN CADA IMATGE? PINTA I ESCRIU.









3 L'UNIVERS

Nom: _____ Curs: _____ Data: _____

1 **ESCRIU AL COSTAT DE CADA ARBRE EL NOM DE L'ESTACIÓ CORRESPONENT.**









Nom: _____ Curs: _____ Data: _____

- 1 D'ON PROCEDIX LA LLUM QUE ENS PERMET VORE LA LLUNA?
ASSENYALA AMB UNA CREU.

Del seu interior

Del Sol

De la Terra

- 2 DIBUIXA LES FASES DE LA LLUNA SEGÜENTS.


quart creixent

lluna plena

quart minvant

Nom: _____ Curs: _____ Data: _____

1 **ESCRIU EN ORDRE LES FASES DE LA LLUNA.**



quart creixent

quart minvant

lluna plena

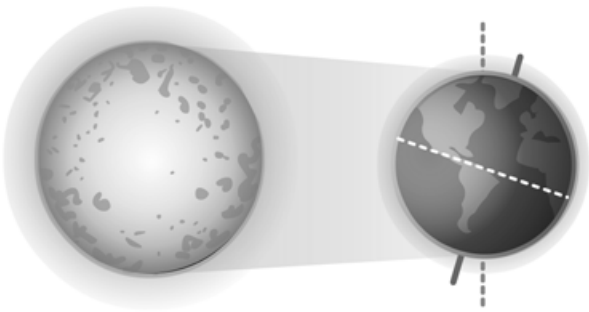
1.
2.
3.

Nom: _____ Curs: _____ Data: _____

1 COMPLETA LES ORACIONS AMB ESTES PARAULES.

rotació

translació



El moviment de _____
fa que es donen les quatre estacions.

Gràcies al moviment de


_____ hi ha dia i nit.

El moviment de _____
dura 365 dies.

El moviment de _____
dura 1 dia.

Nom: _____ Curs: _____ Data: _____

1 QUI GIRA AL VOLTANT DE QUI? ASSENYALA AMB UNA CREU LES FRASES CORRECTES.



La Terra gira al voltant de la Lluna.

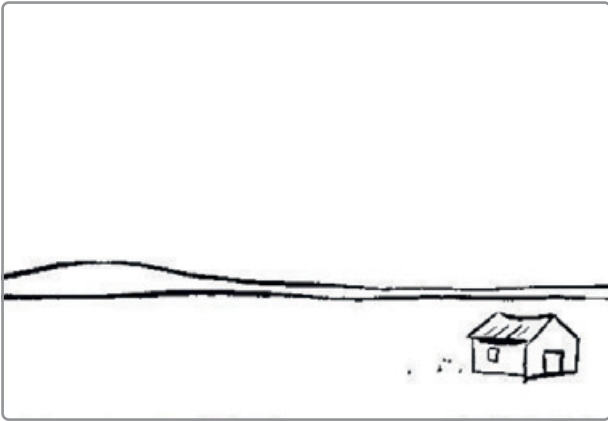
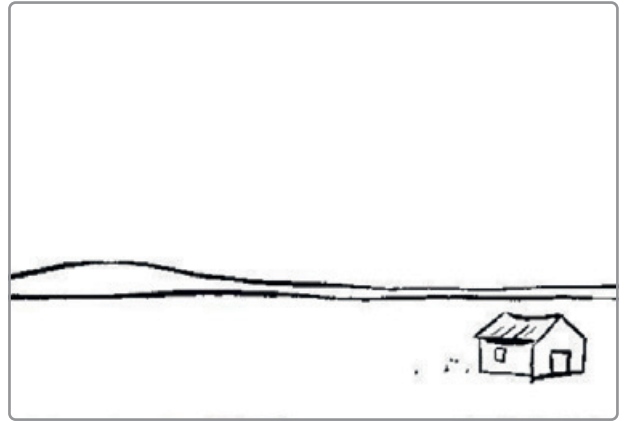


La Terra gira al voltant del Sol.

La Lluna gira al voltant del Sol.

La Lluna gira al voltant de la Terra.

El Sol gira al voltant de la Terra i la Lluna.

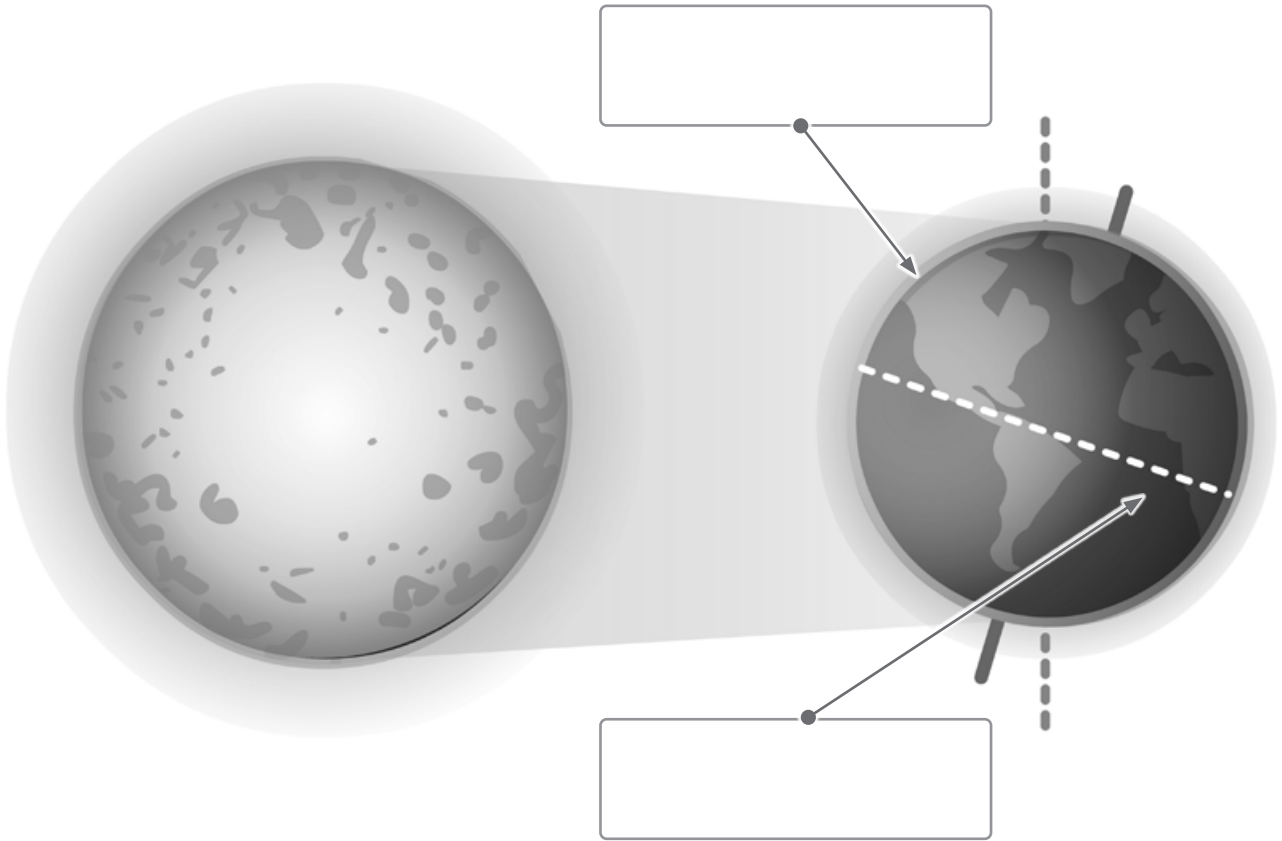
Nom: _____ Curs: _____ Data: _____

1 DIBUIXA LA POSICIÓ DEL SOL EN CADASCUN DELS MOMENTS DEL DIA.*alba**migdia**nit**capvespre*

9 L'UNIVERS


Nom: _____ Curs: _____ Data: _____

1 ESCRIU DIA I NIT ON CORRESPONGA.



Nom: _____ Curs: _____ Data: _____

1 AL VOLTANT DEL SOL GIREN HUIT PLANETES. ENCERCLA ELS NOMS.



La Terra

Venus

La Lluna

Júpiter

Mart

Saturn

El cometa Halley

La galàxia

L'estrela polar

Neptú

Mercuri

Urà

Nom: _____ Curs: _____ Data: _____

1 PINTA L'OPCIÓ CORRECTA.

La Terra és...

un planeta

una estrella

una ciutat

El Sol és...

un planeta

una estrella

un poble

Mercuri és...

un planeta

una estrella


un satèl·lit

2 QUINA FORMA TÉ LA TERRA? ASSENYALA I DIBUIXA.

quadrat

plàtan


esfera



12 L'UNIVERS

Nom: _____ Curs: _____ Data: _____

1 QUINS PLANETES ES TROBEN MÉS PROP DEL SOL QUE LA TERRA?
PINTA'LS I ESCRIU-NE ELS NOMS.



i

13 L'UNIVERS

Nom: _____ Curs: _____ Data: _____

1 **ESCRIU EL NOM DE DOS PLANETES QUE SIGUEN MÉS GRANS QUE LA TERRA.**



i
