

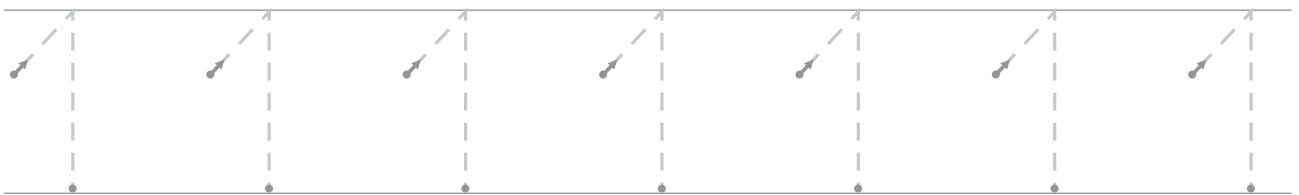
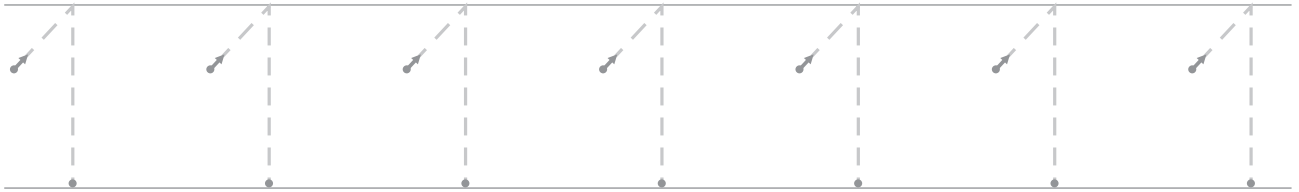


1 NUMERACIÓN

Nombre: _____ Curso: _____ Fecha: _____



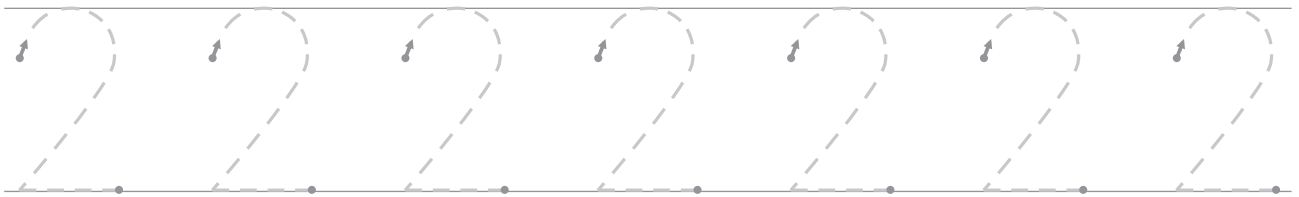
1 REPASA LOS NÚMEROS Y COMPLETA.



2 NUMERACIÓN

Nombre: _____ Curso: _____ Fecha: _____

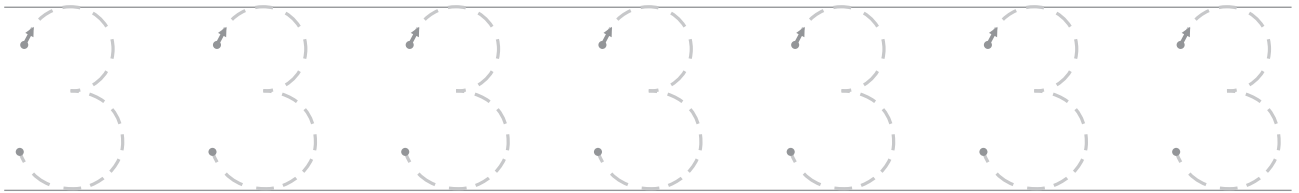
1 REPASA LOS NÚMEROS Y COMPLETA.



3 NUMERACIÓN

Nombre: _____ Curso: _____ Fecha: _____

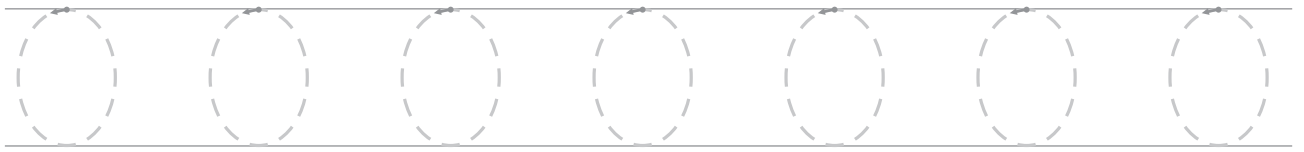
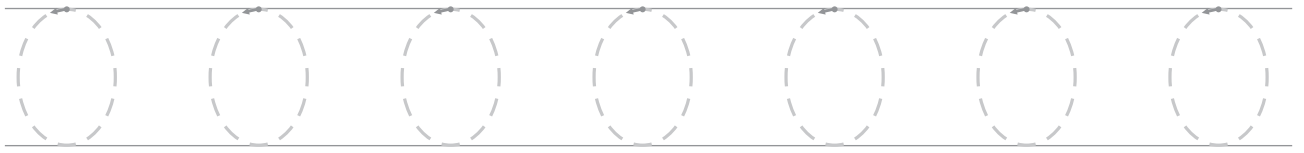
1 REPASA LOS NÚMEROS Y COMPLETA.



4 NUMERACIÓN

Nombre: _____ Curso: _____ Fecha: _____

1 REPASA LOS NÚMEROS Y COMPLETA.

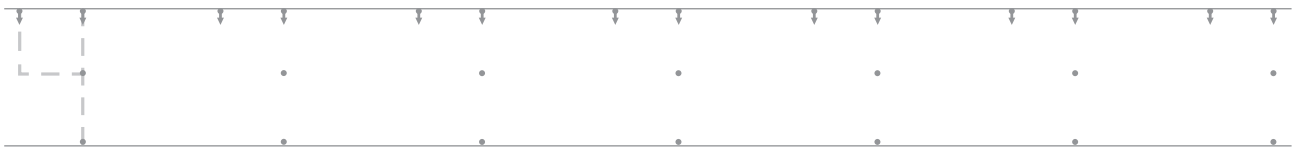
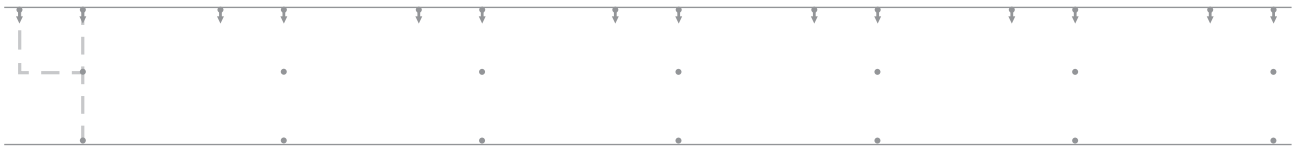
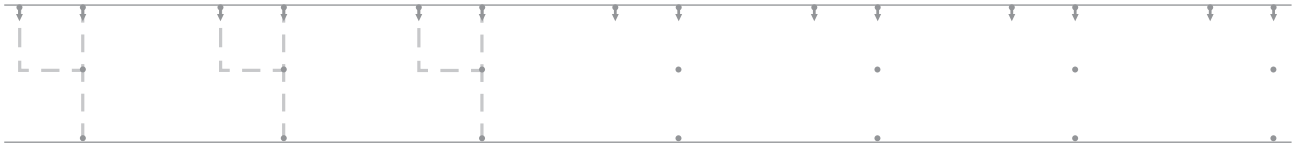


5

NUMERACIÓN

Nombre: _____ Curso: _____ Fecha: _____

1 REPASA LOS NÚMEROS Y COMPLETA.



6 NUMERACIÓN

Nombre: _____ Curso: _____ Fecha: _____

1 REPASA LOS NÚMEROS Y COMPLETA.



7 NUMERACIÓN

Nombre: _____ Curso: _____ Fecha: _____

1 REPASA LOS NÚMEROS Y COMPLETA.



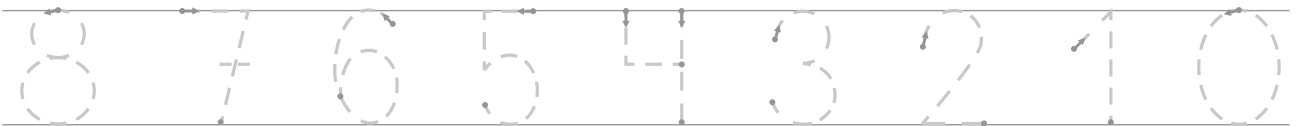
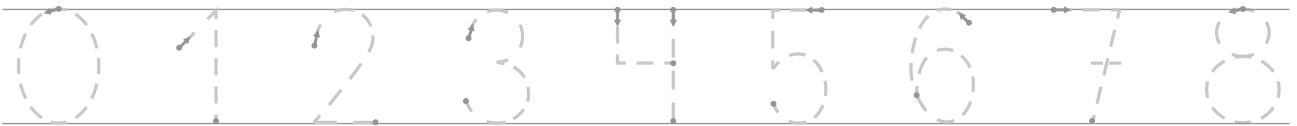
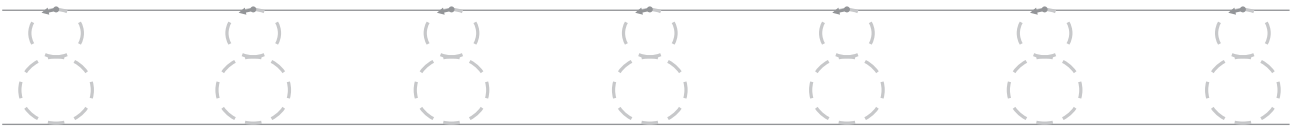
Nombre: _____ Curso: _____ Fecha: _____

1 REPASA LOS NÚMEROS Y COMPLETA.



Nombre: _____ Curso: _____ Fecha: _____

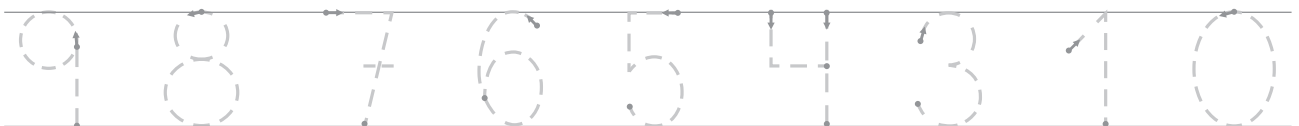
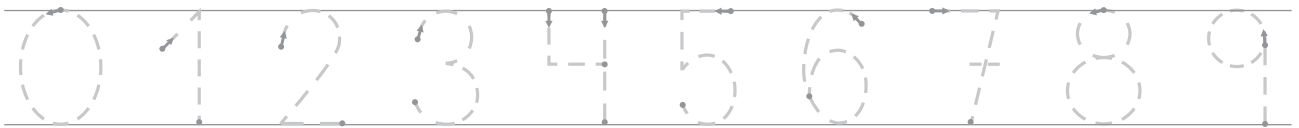
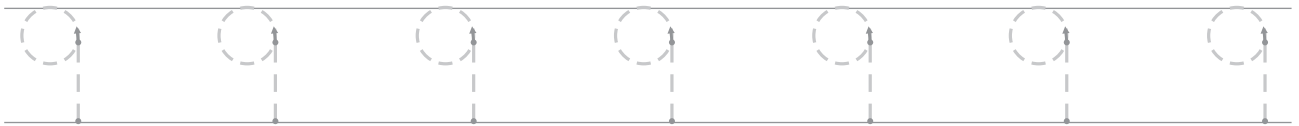
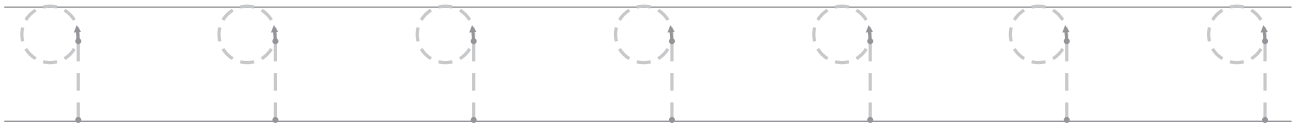
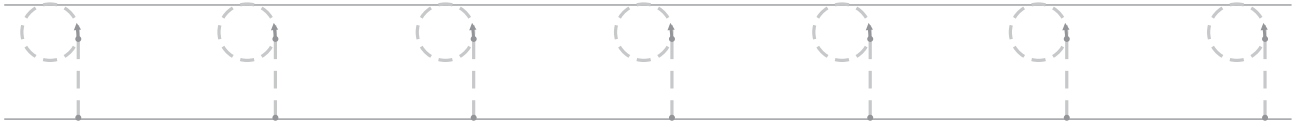
1 REPASA LOS NÚMEROS Y COMPLETA.



10 NUMERACIÓN

Nombre: _____ Curso: _____ Fecha: _____


1 REPASA LOS NÚMEROS Y COMPLETA.



11 NUMERACIÓN

Nombre: _____ Curso: _____ Fecha: _____





1 IDENTIFICA Y RELACIONA.



12 NUMERACIÓN

Nombre: _____ Curso: _____ Fecha: _____





1 IDENTIFICA Y RELACIONA.

13 NUMERACIÓN

Nombre: _____ Curso: _____ Fecha: _____





1 IDENTIFICA Y RELACIONA.

14 NUMERACIÓN

Nombre: _____ Curso: _____ Fecha: _____





1 IDENTIFICA Y RELACIONA.

15 NUMERACIÓN

Nombre: _____ Curso: _____ Fecha: _____





1 IDENTIFICA Y RELACIONA.

16 NUMERACIÓN

Nombre: _____ Curso: _____ Fecha: _____





1 IDENTIFICA Y RELACIONA.

17 NUMERACIÓN

Nombre: _____ Curso: _____ Fecha: _____

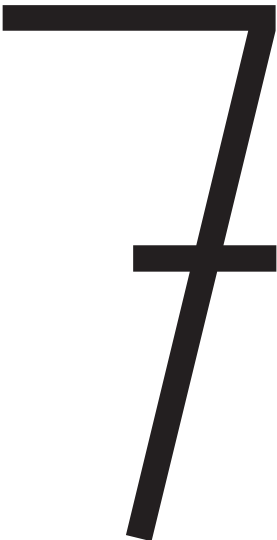



1 IDENTIFICA Y RELACIONA.

18 NUMERACIÓN





Nombre: _____ Curso: _____ Fecha: _____

1 IDENTIFICA Y RELACIONA.

Nombre: _____ Curso: _____ Fecha: _____

1 IDENTIFICA Y RELACIONA.

Nombre: _____ Curso: _____ Fecha: _____

1 IDENTIFICA Y RELACIONA.

Nombre: _____ Curso: _____ Fecha: _____

1 REPASA LOS NÚMEROS.

0

0

cero

1

1

uno

2

2

dos

3

3

tres

4

4

cuatro

5

5

cinco

6

6

seis

7

7

siete

8

8

ocho

9

9

nueve

Nombre: _____ Curso: _____ Fecha: _____

1 REPASA LOS NÚMEROS.

10

10

diez

11

11

once

12

12

doce

13

13

trece

14

14

catorce

15

15

quince

16

16

dieciséis

17

17

diecisiete

18

18

dieciocho

19

19

diecinueve

Nombre: _____ Curso: _____ Fecha: _____

1 REPASA LOS NÚMEROS.

20

20

veinte

21

21

veintiuno

22

22

veintidós

23

23

veintitrés

24

24

veinticuatro

25

25

veinticinco

26

26

veintiséis

27

27

veintisiete

28

28

veintiocho

29

29

veintinueve

Nombre: _____ Curso: _____ Fecha: _____

1 REPASA LOS NÚMEROS.

30

30

treinta

31

31

treinta y uno

32

32

treinta y dos

33

33

treinta y tres

34

34

treinta y cuatro

35

35

treinta y cinco

36

36

treinta y seis

37

37

treinta y siete

38

38

treinta y ocho

39

39

treinta y nueve

Nombre: _____ Curso: _____ Fecha: _____

1 REPASA LOS NÚMEROS.

40

40

cuarenta

41

41

cuarenta y uno

42

42

cuarenta y dos

43

43

cuarenta y tres

44

44

cuarenta y cuatro

45

45

cuarenta y cinco

46

46

cuarenta y seis

47

47

cuarenta y siete

48

48

cuarenta y ocho

49

49

cuarenta y nueve

Nombre: _____ Curso: _____ Fecha: _____

1 REPASA LOS NÚMEROS.

50

50

cincuenta

51

51

cincuenta y uno

52

52

cincuenta y dos

53

53

cincuenta y tres

54

54

cincuenta y cuatro

55

55

cincuenta y cinco

56

56

cincuenta y seis

57

57

cincuenta y siete

58

58

cincuenta y ocho

59

59

cincuenta y nueve

Nombre: _____ Curso: _____ Fecha: _____

1 REPASA LOS NÚMEROS.

60

60

sesenta

61

61

sesenta y uno

62

62

sesenta y dos

63

63

sesenta y tres

64

64

sesenta y cuatro

65

65

sesenta y cinco

66

66

sesenta y seis

67

67

sesenta y siete

68

68

sesenta y ocho

69

69

sesenta y nueve

Nombre: _____ Curso: _____ Fecha: _____

1 REPASA LOS NÚMEROS.

70

70

setenta

71

71

setenta y uno

72

72

setenta y dos

73

73

setenta y tres

74

74

setenta y cuatro

75

75

setenta y cinco

76

76

setenta y seis

77

77

setenta y siete

78

78

setenta y ocho

79

79

setenta y nueve

Nombre: _____ Curso: _____ Fecha: _____

1 REPASA LOS NÚMEROS.

80

80

ochenta

81

81

ochenta y uno

82

82

ochenta y dos

83

83

ochenta y tres

84

84

ochenta y cuatro

85

85

ochenta y cinco

86

86

ochenta y seis

87

87

ochenta y siete

88

88

ochenta y ocho

89

89

ochenta y nueve

Nombre: _____ Curso: _____ Fecha: _____

1 REPASA LOS NÚMEROS.

90

90

noventa

91

91

noventa y uno

92

92

noventa y dos

93

93

noventa y tres

94

94

noventa y cuatro

95

95

noventa y cinco

96

96

noventa y seis

97

97

noventa y siete

98

98

noventa y ocho

99

99

noventa y nueve

31 NUMERACIÓN

Nombre: _____ Curso: _____ Fecha: _____

1 ESCRIBE EL NÚMERO.

UNO	DOS	TRES	CUATRO	CINCO	SEIS	SIETE	OCHO	NUEVE	DIEZ
1									

2 COLOREA EL BORDE DE CADA CONJUNTO SEGÚN EL COLOR ADJUDICADO A CADA CANTIDAD.

1. ROJO

2. AZUL

3. VERDE



3 ESCRIBE EL NOMBRE DE LOS NÚMEROS.

3 →

7 →

6 →

9 →

5 →

4 →

32 NUMERACIÓN

Nombre: _____ Curso: _____ Fecha: _____

1 ESCRIBE EL NÚMERO QUE VA EN MEDIO.

7 9


4 6

6 8

3 5

2 FORMA GRUPOS DE ACUERDO CON EL NÚMERO QUE SE INDICA.

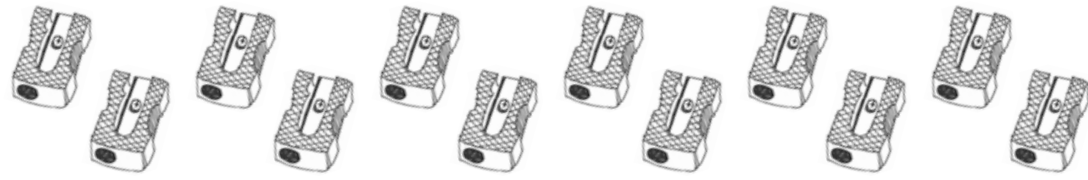
2



3



4




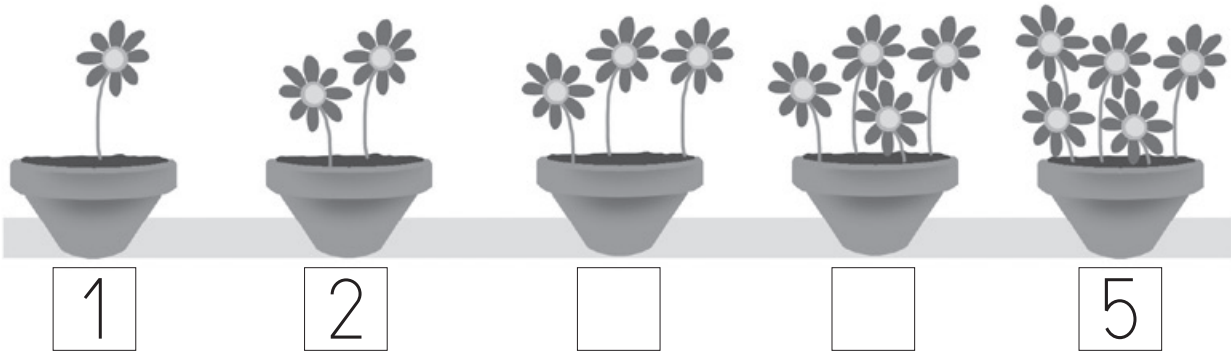

5




33 NUMERACIÓN

Nombre: _____ Curso: _____ Fecha: _____

1 ESCRIBE LOS NÚMEROS QUE FALTAN SIGUIENDO EL ORDEN.



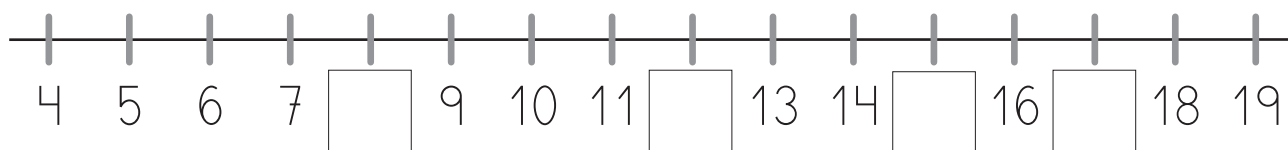
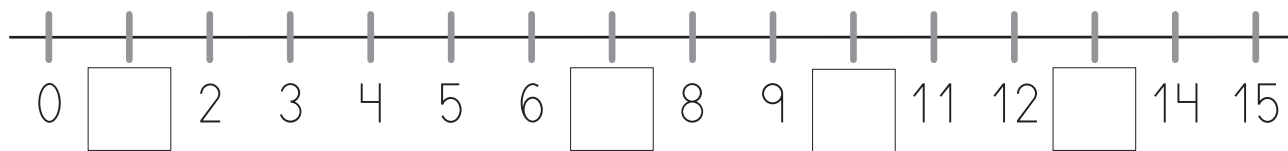
2 CUENTA Y ESCRIBE CUÁNTOS SON.



34 NUMERACIÓN

Nombre: _____ Curso: _____ Fecha: _____

1 ESCRIBE LOS NÚMEROS QUE FALTAN EN ESTAS RECTAS NUMÉRICAS.



2 ESCRIBE EL NOMBRE DE LOS NÚMEROS.

13 →

16 →

14 →

17 →

15 →

18 →


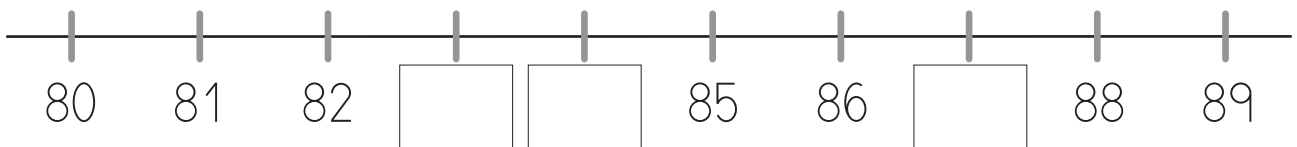
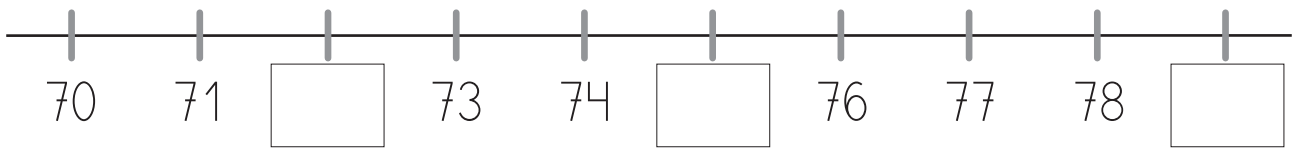
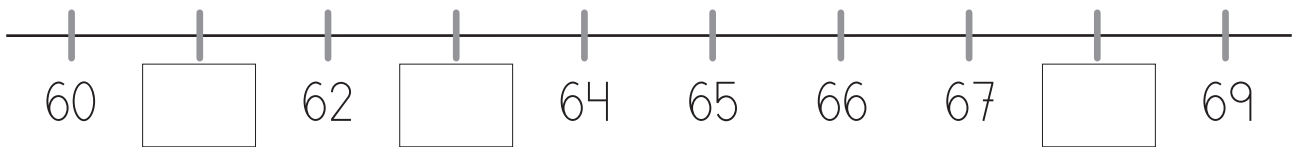
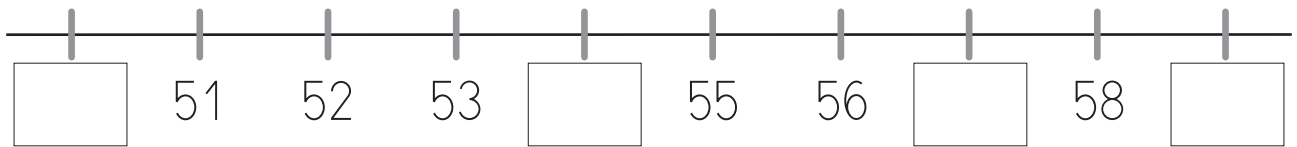
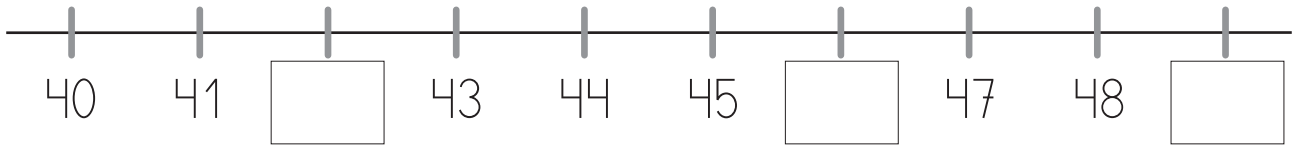
3 CUENTA LOS NIÑOS EN LA FILA Y ESCRIBE EL NÚMERO.



Nombre: _____ Curso: _____ Fecha: _____

1 COMPLETA.19 25 20 21 27 22 28 29 24 **2 ESCRIBE EL NÚMERO QUE FALTA.**38 4059 6169 7187 8929 3150 52

Nombre: _____ Curso: _____ Fecha: _____

1 ESCRIBE LOS NÚMEROS QUE FALTAN.**2 RODEA TODOS LOS NÚMEROS QUE VAN DEL 40 AL 50.**

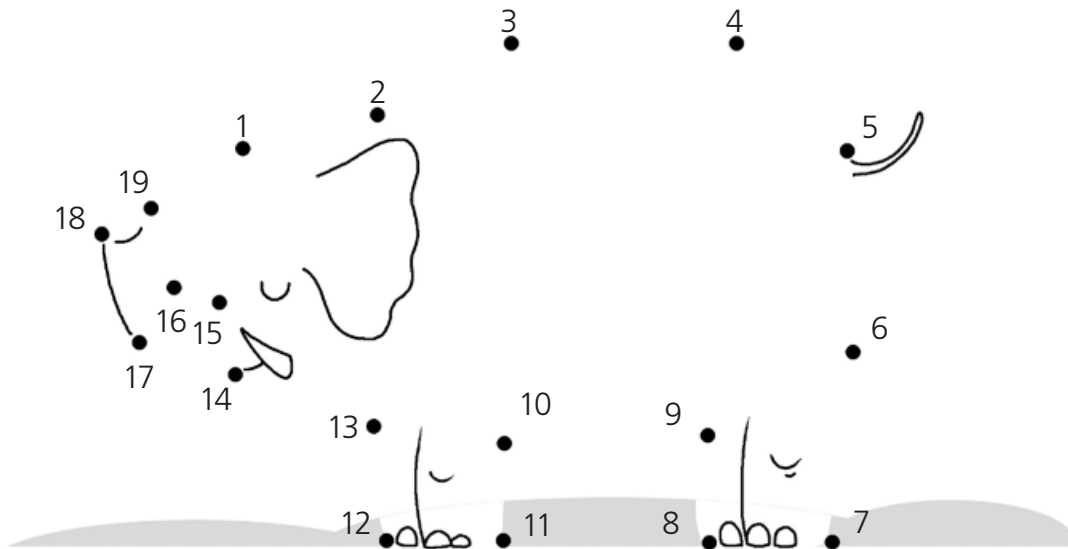
24 49 37 68 41 44 64 40 2 45

48 39 56 42 58 43 66 46 1 47

37 NUMERACIÓN

Nombre: _____ Curso: _____ Fecha: _____

1 UNE LOS NÚMEROS DE MENOR A MAYOR Y COLOREA LA FIGURA QUE SE FORMA.



2 COMPLETA.

53 _____

_____ *sesenta y dos*

70 _____

75 _____

_____ *ochenta y uno*

96 _____

Nombre: _____ Curso: _____ Fecha: _____

1 OBSERVA EL EJEMPLO Y ESCRIBE LOS NÚMEROS INMEDIATAMENTE ANTERIOR Y POSTERIOR.

3	4	5		45	
	87			70	
	61			82	
	40			90	
	34			55	
	73			96	

2 ESCRIBE SEGÚN CORRESPONDA.

▶ veintitrés

▶ 8 decenas y tres unidades

▶ 3 decenas y nueve unidades

▶ 90

▶ 44

▶ 72

Nombre: _____ Curso: _____ Fecha: _____

1 COLOREA DEL MISMO COLOR SEGÚN CORRESPONDE.

60

11

68

29

1 D y 1 U

2 D y 9 U

6 D y 8 U

6 D

2 UNE.

4 D y 4 U

49

4 D y 1 U

cuarenta y seis

4 D y 6 U

41

4 D y 0 U

45

4 D y 5 U

cuarenta

4 D y 9 U

cuarenta y cuatro

40 NUMERACIÓN

Nombre: _____ Curso: _____ Fecha: _____

1 COMPLETA.

6 D y 6 U → 66 →

9 D y 4 U → →


2 D y 1 U → →

4 D y 9 U → →


1 D y 2 U → →

8 D y 5 U → →

2 CUENTA Y RODEA EL NÚMERO CORRESPONDIENTE.



15 - 18 - 19 - 17 - 13



12 - 11 - 14 - 13 - 10

41 NUMERACIÓN

Nombre: _____ Curso: _____ Fecha: _____

1 COLOREA DEL MISMO COLOR SEGÚN CORRESPONDE.

30 57 14 44 71

7 D y 1 U 4 D y 4 U 3 D

5 D y 7 U 1 D y 4 U

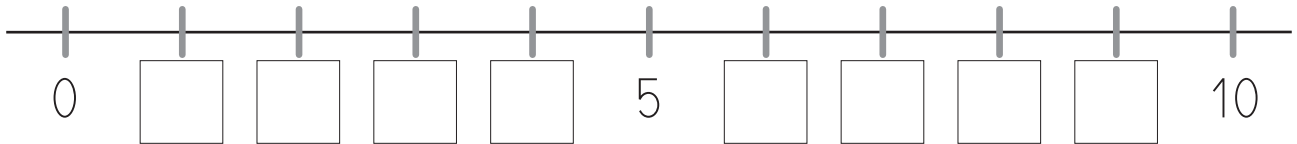
2 ESCRIBE EL NÚMERO ANTERIOR DE ESTOS NÚMEROS.

ANTERIOR	NÚMERO
<input type="text"/> <input type="text"/> <input type="text"/>	CUARENTA
<input type="text"/> <input type="text"/> <input type="text"/>	TRECE
<input type="text"/> <input type="text"/> <input type="text"/>	OCHENTA Y SIETE
<input type="text"/> <input type="text"/> <input type="text"/>	SESENTA Y NUEVE
<input type="text"/> <input type="text"/> <input type="text"/>	NOVENTA
<input type="text"/> <input type="text"/> <input type="text"/>	CINCUENTA Y UNO
<input type="text"/> <input type="text"/> <input type="text"/>	DIECIOCHO

42 NUMERACIÓN

Nombre: _____ Curso: _____ Fecha: _____

1 COMPLETA LA RECTA NUMÉRICA. DESPUÉS, CONTESTA LAS PREGUNTAS.



► ¿Qué número hay entre el 2 y el 5?

y

► ¿Qué número es el inmediatamente anterior al 1?

► ¿Qué número es el inmediatamente posterior al 9?

2 ESCRIBE SEGÚN CORRESPONDA.

► 39

► 7 decenas y cero unidades

► 99

43 NUMERACIÓN

Nombre: _____ Curso: _____ Fecha: _____

1 UNE SEGÚN CORRESPONDE.

sesenta y tres

6 D

sesenta

6 D y 4 U

sesenta y ocho

6 D y 1 U

sesenta y uno

6 D y 7 U

sesenta y siete

6 D y 3 U

sesenta y cuatro

6 D y 8 U

2 OBSERVA EL EJEMPLO Y ESCRIBE LOS NÚMEROS INMEDIATAMENTE ANTERIOR Y POSTERIOR.

49 50 51

□ 14 □

□ 87 □

□ 38 □

□ 9 □

□ 83 □

□ 27 □

□ 95 □

44 NUMERACIÓN

Nombre: _____ Curso: _____ Fecha: _____

1 COMPLETA COMO EN EL EJEMPLO.

11 es 1 decena y 1 unidad

▶ 23 es decena y unidades

▶ 46 es decena y unidades

▶ 18 es decena y unidades

▶ 91 es decena y unidades

2 RODEA CON ROJO LOS NÚMEROS QUE SEAN DECENAS EXACTAS.

29 10 65 89 30 40 39 72 50 21

49 70 12 80 32 54 20 60 8 90

3 ESCRIBE LOS NÚMEROS QUE SE INDICAN.

El tiene 5 decena y 2 unidades.

El tiene dos unidades más que el 19.



45 NUMERACIÓN

Nombre: _____ Curso: _____ Fecha: _____

1 COMPLETA LA TABLA COMO EN EL EJEMPLO.

NÚMERO	D	U	SE ESCRIBE
40	4 D	0 U	cuarenta
85			
11			
98			
65			
76			

2 RODEA CON VERDE LAS LINTERNAS Y CON NARANJA LOS PRISMÁTICOS FORMANDO GRUPOS DE 10 ELEMENTOS.



46 NUMERACIÓN

Nombre: _____ Curso: _____ Fecha: _____

1 RODEA LOS NÚMEROS QUE SEAN MAYORES DE 2.

4 5 0 1 2 3
5 2 0 3 4 1
2 4 5 2 5 3

2 COMPLETA.

9 D y 9 U → 99 → *noventa y nueve*

3 D y 2 U → →

6 D y 6 U → →

1 D y 9 U → →

2 D y 2 U → →

8 D y 5 U → →

4 D y 4 U → →

Nombre: _____ Curso: _____ Fecha: _____

- 1** RODEA CON VERDE LOS PECES Y CON NARANJA LOS LOROS FORMANDO GRUPOS DE 10 ANIMALES.



- 2** ESCRIBE EL NÚMERO EN CADA CASO.

6 decenas y 8 unidades =

5 decenas y 3 unidades =



4 decenas y 9 unidades =

3 decenas y 7 unidades =

8 decenas y 6 unidades =

- 2** RODEA, EN CADA GRUPO, EL NÚMERO MAYOR CON AZUL.

Nombre: _____ Curso: _____ Fecha: _____

1 COMPARA Y ESCRIBE EL SIGNO <, >, =.**2 ORDENA LAS EDADES DE ESTAS PERSONAS COMENZANDO POR LA DEL MÁS JOVEN.**

< < < < <

3 COLOREA DE AZUL LA NUBE QUE TIENE UNA DECENA, DE ROSA LAS QUE SON MAYORES QUE UNA DECENA Y DE AMARILLO LAS QUE SON MENORES QUE UNA DECENA.