

Unitat 4. De l'interior a la costa

Nom: _____ Curs: _____ Data: _____

Dalt de les muntanyes

1. Ratlla el que no pots trobar en un paisatge d'interior.

illa vall muntanya penya-segat
riu plana

2. Completa les oracions següents.

Els solen trobar-se a les muntanyes.

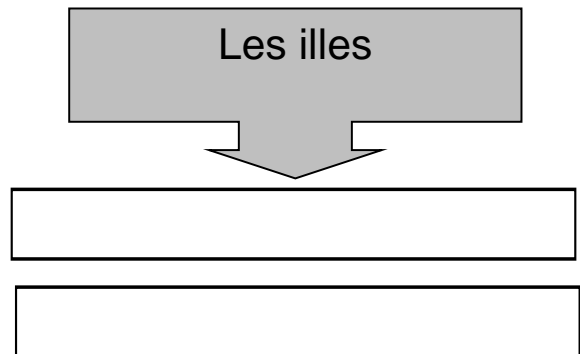
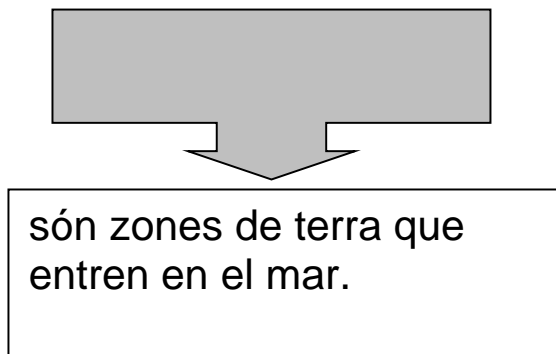
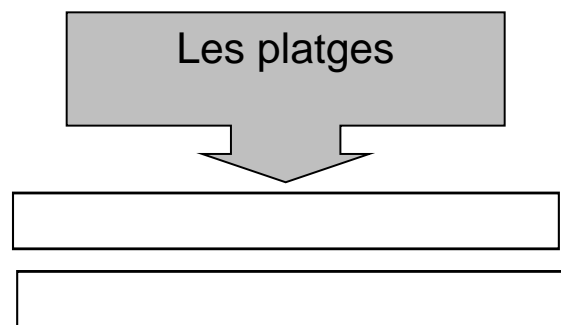
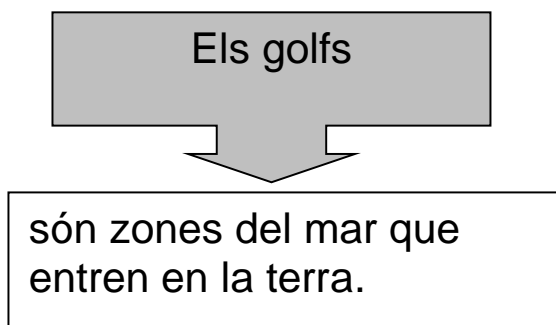
Els cultius solen estar a les .

Unitat 4. De l'interior a la costa

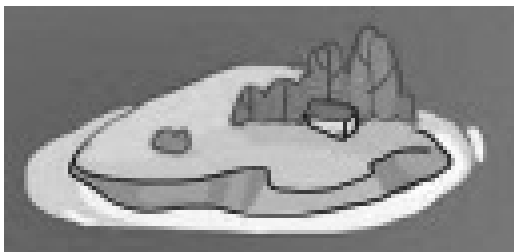
Nom: _____ Curs: _____ Data: _____

Vacances a la costa

1. Completa els esquemes com en l'exemple.



2. Anomena l'element representat del paisatge de costa.




Unitat 4. De l'interior a la costa

Nom: _____ Curs: _____ Data: _____

Empremtes en el paisatge

1. Pinta les lletres dels elements que hagen construït les persones.



2. Pinta l'oració vertadera.

Els fars són propis dels paisatges d'interior.

Els ports són propis dels paisatges de costa.

A les pedreres, els vaixells carreguen passatgers.

Als ports s'acumula l'aigua dels rius.



Unitat 4. De l'interior a la costa

Nom: _____ Curs: _____ Data: _____

Davall dels teus peus

1. Completa les frases: indica amb què fabricaries cada cosa.

- Els clarions: els fabricaria amb .
- La ceràmica: la fabricaria amb .
- Els rellotges: els fabricaria amb .

2. Ordena les parts de la frase.

i els minerals

natural.

Les roques

d'origen

són materials